

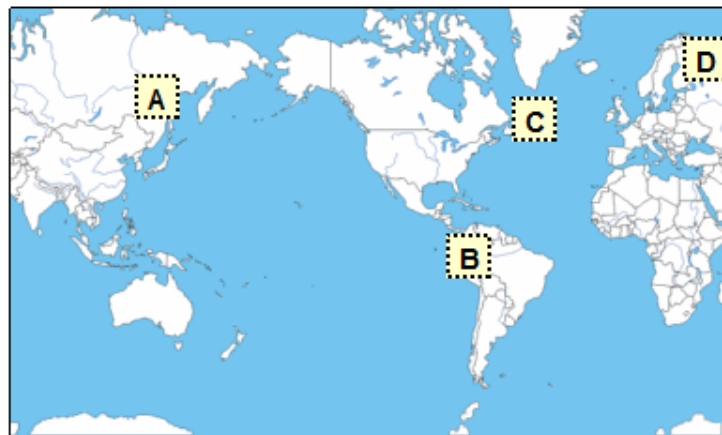


Erupciones volcánicas

Pregunta 1 / 4

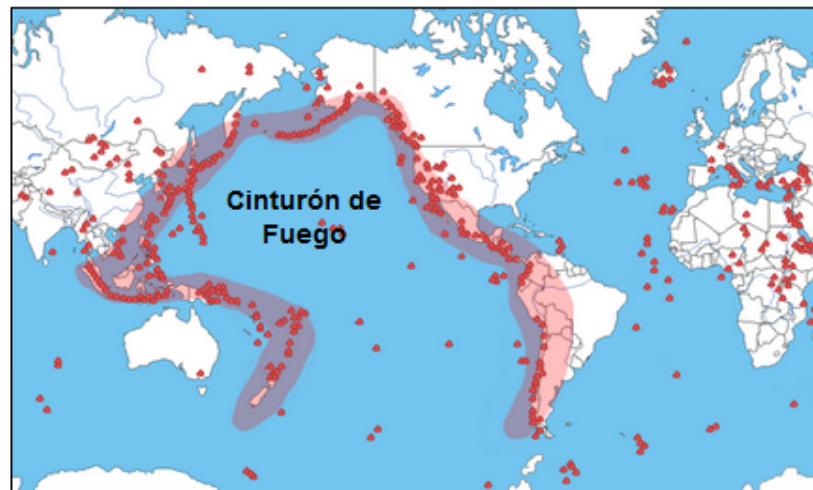
Consulta la información «Erupciones volcánicas» de la derecha. Haz clic en una opción para responder a la pregunta.

Selecciona el lugar del mapa siguiente donde es **menos** probable que se produzca actividad volcánica o terremotos.

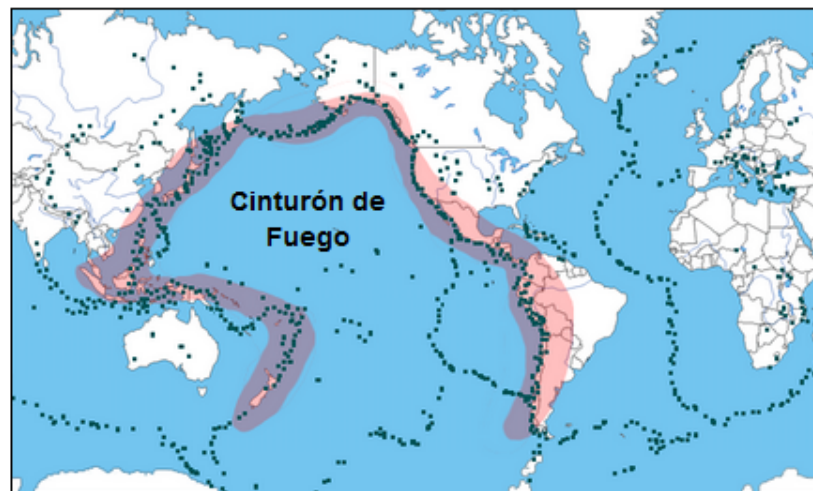


ERUPCIONES VOLCÁNICAS

Las erupciones volcánicas y los terremotos afectan a personas de muchas partes del mundo. El Mapa 1 muestra los lugares donde hay volcanes. El Mapa 2 muestra los lugares donde hay terremotos. En ambos mapas se muestra una región llamada Cinturón de Fuego.



Mapa 1 - Volcanes



Mapa 2 - Terremotos



Erupciones volcánicas

Pregunta 3 / 4

Consulta la información «Efectos sobre la radiación solar» de la derecha. Escribe tu respuesta a la pregunta.

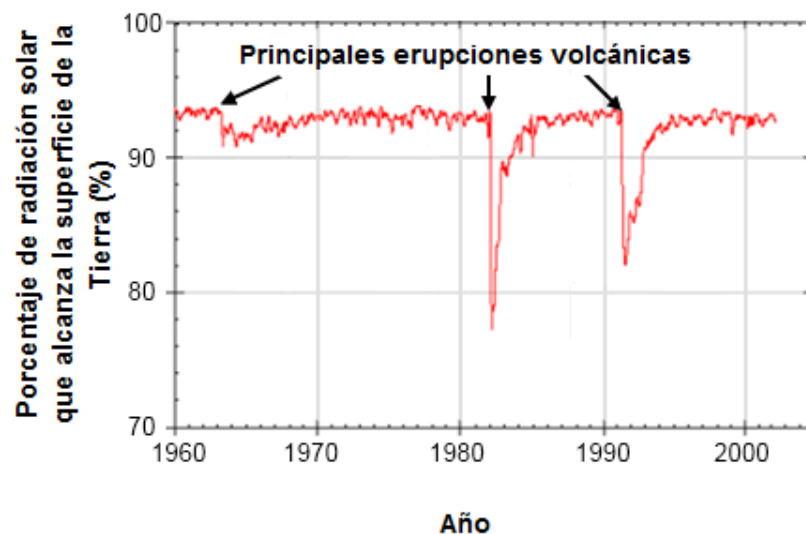
¿Por qué después de las erupciones volcánicas cambia el porcentaje de radiación solar que alcanza la superficie de la Tierra?

ERUPCIONES VOLCÁNICAS

Efectos en la radiación solar

Cuando los volcanes entran en erupción, expulsan a la atmósfera cenizas volcánicas y dióxido de azufre. El siguiente gráfico muestra el efecto que tienen estas emisiones en la cantidad de radiación solar que alcanza la superficie de la Tierra.

Radiación solar que alcanza la superficie de la Tierra a lo largo del tiempo





Erupciones volcánicas

Pregunta 4 / 4

Consulta la información «Dióxido de carbono atmosférico» de la derecha. Haz clic en una opción para responder a la pregunta.

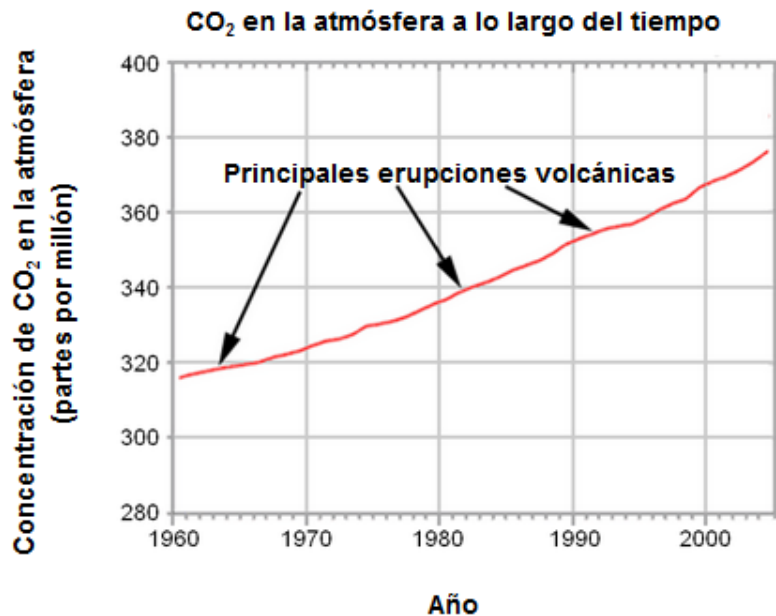
Según esa información, ¿qué efecto tienen las erupciones volcánicas sobre la concentración de dióxido de carbono de la atmósfera?

- Un gran efecto, porque ha habido muchas erupciones.
- Un gran efecto, porque cada erupción expulsa grandes cantidades de material.
- Un efecto leve, porque los volcanes liberan poco CO_2 comparado con otras fuentes.
- Un efecto leve, porque los niveles de CO_2 de la atmósfera disminuyen durante las erupciones.

ERUPCIONES VOLCÁNICAS

Dióxido de carbono atmosférico

Los volcanes emiten dióxido de carbono (CO_2) durante las erupciones. El siguiente gráfico muestra las concentraciones de dióxido de carbono atmosférico que los científicos han registrado desde 1960.



La siguiente tabla muestra la contribución relativa de varias fuentes al dióxido de carbono de la atmósfera.

Fuente	Contribución al CO_2 de la atmósfera
Emisiones volcánicas	< 1%
Emisiones causadas por el ser humano	20%
Respiración de las plantas	40%
Respiración microbiana y descomposición	40%

Unidad CS644 Erupciones volcánicas

Esta pregunta se centra en el modelo de distribución de los volcanes y en el impacto de las erupciones volcánicas sobre el clima y la atmósfera. El estímulo incluye un mapa y un gráfico.

Unidad 644 Erupciones volcánicas

Pregunta 1

PISA 2015

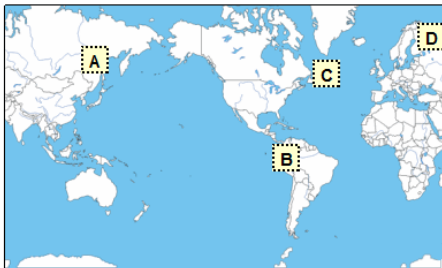
?
◀
▶

Erupciones volcánicas

Pregunta 1 / 4

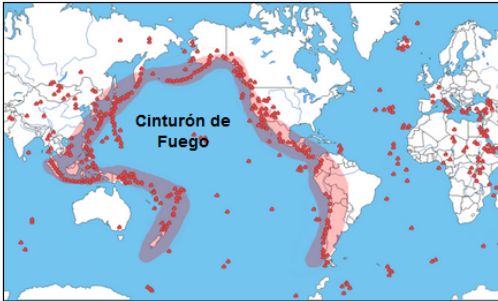
Consulta la información «Erupciones volcánicas» de la derecha. Haz clic en una opción para responder a la pregunta.

Selecciona el lugar del mapa siguiente donde es **menos** probable que se produzca actividad volcánica o terremotos.

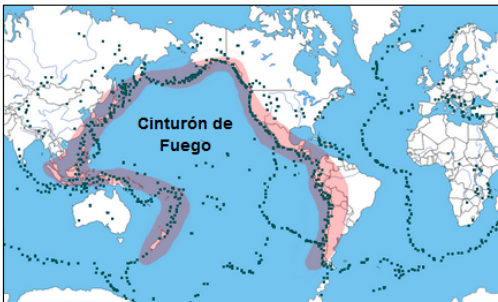


ERUPCIONES VOLCÁNICAS

Las erupciones volcánicas y los terremotos afectan a personas de muchas partes del mundo. El Mapa 1 muestra los lugares donde hay volcanes. El Mapa 2 muestra los lugares donde hay terremotos. En ambos mapas se muestra una región llamada Cinturón de Fuego.



Mapa 1 - Volcanes



Mapa 2 - Terremotos

Los alumnos deben interpretar los datos de un mapa para situar los lugares que presentan menos riesgo de actividad volcánica y de terremotos. La respuesta correcta es el lugar “D”, sobre el Norte de Europa.

Número de pregunta	CS644Q01
Competencia	Interpretar datos y pruebas científicamente
Conocimiento – Sistemas	Procedimental
Contexto	Global – Riesgos naturales
Dificultad	Baja
Formato de la pregunta	Opción múltiple – Codificada por ordenador

Unidad 644 Erupciones volcánicas
Pregunta 2

PISA 2015

Erupciones volcánicas
 Pregunta 3 / 4

Consulta la información «Efectos sobre la radiación solar» de la derecha. Escribe tu respuesta a la pregunta.

¿Por qué después de las erupciones volcánicas cambia el porcentaje de radiación solar que alcanza la superficie de la Tierra?

ERUPCIONES VOLCÁNICAS
 Efectos en la radiación solar

Cuando los volcanes entran en erupción, expulsan a la atmósfera cenizas volcánicas y dióxido de azufre. El siguiente gráfico muestra el efecto que tienen estas emisiones en la cantidad de radiación solar que alcanza la superficie de la Tierra.

Radiación solar que alcanza la superficie de la Tierra a lo largo del tiempo

El gráfico muestra una línea roja que fluctúa entre el 90% y el 95% de radiación solar que alcanza la superficie de la Tierra. Hay tres picos negativos marcados con flechas y el título 'Principales erupciones volcánicas': uno en 1982 (que cae hasta aproximadamente el 78%), uno en 1991 (que cae hasta aproximadamente el 82%) y uno en 1992 (que cae hasta aproximadamente el 85%).

Se debe interpretar correctamente los datos del gráfico mostrando que el porcentaje de la radiación solar que llega a la superficie de la Tierra se reduce durante erupciones volcánicas importantes, y ofrecer una explicación indicando que las emisiones volcánicas reflejan o absorben la radiación solar.

<i>Número de pregunta</i>	CS644Q03
<i>Competencia</i>	Interpretar datos y pruebas científicamente
<i>Conocimiento – Sistemas</i>	Contenido- La Tierra y el Espacio
<i>Contexto</i>	Global – Riesgos naturales
<i>Dificultad</i>	Media
<i>Formato de la pregunta</i>	Pregunta abierta – codificada por expertos

Unidad 644 Erupciones volcánicas
Pregunta 3

PISA 2015

Erupciones volcánicas
 Pregunta 4 / 4

Consulta la información «Dióxido de carbono atmosférico» de la derecha. Haz clic en una opción para responder a la pregunta.

Según esa información, ¿qué efecto tienen las erupciones volcánicas sobre la concentración de dióxido de carbono de la atmósfera?

- Un gran efecto, porque ha habido muchas erupciones.
- Un gran efecto, porque cada erupción expulsa grandes cantidades de material.
- Un efecto leve, porque los volcanes liberan poco CO₂ comparado con otras fuentes.
- Un efecto leve, porque los niveles de CO₂ de la atmósfera disminuyen durante las erupciones.

ERUPCIONES VOLCÁNICAS
 Dióxido de carbono atmosférico

Los volcanes emiten dióxido de carbono (CO₂) durante las erupciones. El siguiente gráfico muestra las concentraciones de dióxido de carbono atmosférico que los científicos han registrado desde 1960.

CO₂ en la atmósfera a lo largo del tiempo

La siguiente tabla muestra la contribución relativa de varias fuentes al dióxido de carbono de la atmósfera.

Fuente	Contribución al CO ₂ de la atmósfera
Emisiones volcánicas	< 1%
Emisiones causadas por el ser humano	20%
Respiración de las plantas	40%
Respiración microbiana y descomposición	40%

Se deben interpretar aquí los datos que apoyen la tercera respuesta, que afirma que los volcanes tienen un efecto leve, porque liberan poco CO₂ comparado con otras fuentes.

<i>Número de pregunta</i>	CS644Q04
<i>Competencia</i>	Interpretar datos y pruebas científicamente
<i>Conocimiento – Sistemas</i>	Procedimental
<i>Contexto</i>	Global – Riesgos naturales
<i>Dificultad</i>	Baja
<i>Formato de la pregunta</i>	Opción múltiple – Codificada por ordenador

UNIDAD 644: ERUPCIONES VOLCÁNICAS



CS644Q03

¿Por qué después de las erupciones volcánicas cambia el porcentaje de radiación solar que alcanza la superficie terrestre?

C o d i f i c a c i ó n - 0 1 9

FINALIDAD DE LA PREGUNTA

Competencia: Identificar cuestiones científicas

Conocimiento: Contenido

Sistemas: de la Tierra y el Espacio

PUNTUACIÓN ERUPCIONES VOLCÁNICAS 3

Puntuación Total

Código 1: Explica por qué las emisiones volcánicas reflejan o absorben la radiación solar.

- Después de una erupción, hay más cenizas y más dióxido de azufre en el aire que impide que la radiación solar alcance la superficie terrestre.
- Las emisiones volcánicas reflejan la luz del sol de vuelta al espacio.

Sin Puntuación

Código 0: Otras respuestas

Código 9: Sin respuesta